

Dénombrer une collection de 1 à 3 éléments

Nom :

Date :

Observe bien.



1




2



3


Maintenant, compte les objets dans chaque image et entoure le nombre qui correspond.



1

2


3



1

2

3



1

2

3